

DO NOT OPEN THIS TEST BOOKLET UNTIL YOU ARE ASKED TO DO SO
SS : 12/(P)/02 **TEST BOOKLET SERIES**

SESSION : AFTERNOON
APTITUDE TEST
PAPER II

C

Time Allowed : 2 Hours]

[Maximum Marks : 200

INSTRUCTIONS

1. **IMMEDIATELY AFTER THE COMMENCEMENT OF THE EXAMINATION, YOU SHOULD CHECK THAT THIS TEST BOOKLET DOES NOT HAVE ANY UNPRINTED OR TORN OR MISSING PAGES OR ITEMS ETC. IF SO, GET IT REPLACED BY A COMPLETE TEST BOOKLET.**
2. **ENCODE CLEARLY THE TEST BOOKLET SERIES A, B, C OR D AS THE CASE MAY BE IN THE APPROPRIATE PLACE.**
3. You have to enter your Roll Number on the Test Booklet in the Box provided alongside. **DO NOT** write anything else on the Test Booklet.
4. This Test Booklet contains **100** items (questions). Each item is printed both in **Hindi** and **English** except for Questions relating to English Language Comprehension which are in English only. Each item comprises four responses (answers). You will select the response which you want to mark on the Answer Sheet. In case you feel that there is more than one correct response, mark the response which you consider the best. In any case, choose **ONLY ONE** response for each item.
5. You have to mark all your responses **ONLY** on the separate Answer Sheet provided.
6. All items carry equal marks.
7. Before you proceed to mark in the Answer Sheet the response to various items in the Test Booklet, you have to fill in some particulars in the Answer Sheet as per instructions sent to you with your Admission Certificate.
8. After you have completed filling in all your responses on the Answer Sheet and the examination has concluded, you should hand over to the Invigilator **only the Answer Sheet**. You are permitted to take away with you the Test Booklet.
9. Sheets for rough work are appended in the Test Booklet at the end.
10. **Penalty for wrong Answers :**
THERE WILL BE PENALTY (NEGATIVE MARKING) FOR WRONG ANSWERS MARKED BY A CANDIDATE IN THE OBJECTIVE TYPE QUESTION PAPERS.
 - (i) There are four alternatives for the answers to every question. For each question for which a wrong answer has been given by the candidate, **one third** of the marks assigned to that question will be deducted as penalty.
 - (ii) If a candidate gives more than one answer, it will be treated as a **wrong answer** even if one of the given answer happen to be correct and there will be same penalty as above for that question.
 - (iii) If a question is left blank i.e. no answer is given by the candidate, there will be **no penalty** for that question.
11. In case of any discrepancy found in English and Hindi Version in this paper, the English Version may be treated as correct and final.

DO NOT OPEN THIS TEST BOOKLET UNTIL YOU ARE ASKED TO DO SO

Note : Hindi version of the instructions is printed on the back cover of this Booklet.
ध्यान दें : अनुदेशों का हिंदी रूपान्तर इस पुस्तिका के पिछले पृष्ठ पर छपा है।

Aptitude Test
Paper II

Duration : 2 Hours]

[Marks : 200

Directions (Question Nos. 1 to 3) :

Situation : Mr. Ranjeet wishes to get his office renovated. He hires the services of a plumber, a carpenter, a painter, an electrician and an interior decorator. The renovation is to be completed in a period of one working week i.e. Monday to Friday. Every worker will be taking one complete day to do his job. Mr. Ranjeet will allow just one person to work per day.

- (1) The painter can do his work only after the plumber and the carpenter have completed their jobs.
 - (2) The interior decorator has to complete his job before that of the electrician.
 - (3) The carpenter cannot work on Monday and Tuesday.
1. In case the painter works on Thursday, which among the following alternatives is possible ?
- (A) Electrician works on Tuesday.
 - (B) Electrician works on Friday.
 - (C) The interior decorator does his work after the painter.
 - (D) The plumber and the painter work on consecutive days.

2. Which of the following arrangements is possible ?
- (A) The painter will work on Wednesday and the plumber on Thursday.
 - (B) The carpenter will work on Tuesday and the painter on Friday.
 - (C) The carpenter will work on Wednesday and the plumber on Thursday.
 - (D) The painter will work on Monday and the carpenter on Thursday.
3. In case the painter works on Friday, which among the following statements must be wrong ?
- (A) In case the carpenter works on Thursday, the electrician has to work on the previous day i.e. Wednesday.
 - (B) The plumber may work before the electrician does.
 - (C) The carpenter may work on Wednesday.
 - (D) The carpenter and the electrician may work on consecutive days.

अभिवृत्ति परीक्षण

प्रश्न-पत्र II

समय : 2 घण्टे]

[पूर्णांक : 200

निर्देश (प्र. क्र. 1 से 3) :

स्थिति : श्री रणजीत अपने ऑफिस को नवीनीकृत कराना चाहते हैं। वह एक प्लंबर, एक कारपेंटर, एक पेन्टर, एक विद्युतकर्मी (इलेक्ट्रीशियन) तथा एक आन्तरिक सज्जाकार की सेवाएँ लेते हैं। नवीनीकरण एक कार्यशील सप्ताह अर्थात् सोमवार से शुक्रवार तक पूरा होना है। प्रत्येक कर्मी को अपना कार्य करने को पूरा एक दिन मिलता है। श्री रणजीत प्रतिदिन एक व्यक्ति को कार्य करने देते हैं।

- (1) पेन्टर अपना कार्य प्लंबर तथा कारपेन्टर के कार्य पूरा करने के बाद ही कर सकता है।
 - (2) आन्तरिक सज्जाकार को अपना कार्य इलेक्ट्रीशियन के कार्य पूरा करने के पहले ही पूरा करना है।
 - (3) कारपेंटर सोमवार तथा मंगलवार को कार्य नहीं कर सकता है।
1. यदि पेन्टर बृहस्पतिवार को कार्य करता है, तो निम्नलिखित में से कौनसा विकल्प संभव होगा ?
- (A) इलेक्ट्रीशियन मंगलवार को कार्य करता है।
 - (B) इलेक्ट्रीशियन शुक्रवार को कार्य करता है।
 - (C) आन्तरिक सज्जाकार अपना कार्य पेन्टर के कार्य करने के बाद करता है।
 - (D) प्लंबर (नलकार) तथा पेन्टर बारी-बारी से कार्य करते हैं।

2. निम्नलिखित में से कौनसा विन्यास संभव है ?

- (A) पेन्टर बुधवार को कार्य करेगा तथा प्लंबर बृहस्पतिवार को।
- (B) कारपेन्टर मंगलवार को कार्य करेगा तथा पेन्टर शुक्रवार को।
- (C) कारपेन्टर बुधवार को कार्य करेगा तथा प्लंबर बृहस्पतिवार को।
- (D) पेन्टर सोमवार को कार्य करेगा तथा कारपेन्टर बृहस्पतिवार को।

3. यदि पेन्टर शुक्रवार को कार्य करता है तो निम्नलिखित में से कौनसा कथन गलत होगा ?

- (A) यदि कारपेन्टर बृहस्पतिवार को कार्य करता है, तो इलेक्ट्रीशियन को इससे पहले आने वाले दिन अर्थात् बुधवार को कार्य करना पड़ेगा।
- (B) इलेक्ट्रीशियन के कार्य करने के पहले प्लंबर कार्य कर सकता है।
- (C) कारपेन्टर बुधवार को कार्य कर सकता है।
- (D) कारपेन्टर तथा इलेक्ट्रीशियन बारी-बारी से कार्य कर सकते हैं।

Directions (Question Nos. 4 to 9) :

Situation : It is 9.45 a.m. and you have just arrived by car at one of your shops in Gurgaon. You are about to go into a meeting and receive a text message from head office the South Delhi Shop in your region. It is a 1 hour drive from where you are.

Message : Call from part time sales assistant at South Delhi Shop. Both manager and team leader have not shown up today-on reasons given. Do staff close shop or try to keep going ? They are new staff not sure what to do ?

4. Make the one hour drive to the South Delhi Shop to help the staff at the shop :
- (A) Totally unacceptable
 - (B) Not helpful
 - (C) OK but not ideal
 - (D) A good thing to do
5. Immediately telephone head office to clarify the message :
- (A) Totally unacceptable
 - (B) Not helpful
 - (C) OK but not ideal
 - (D) A good thing to do

6. Try to find another Shop Manager or Team Leader who is nearby and can travel to South Delhi Shop to provide cover.
- (A) Totally unacceptable
 - (B) Not helpful
 - (C) OK but not ideal
 - (D) A good thing to do
7. Immediately telephone the South Delhi Shop to clarify the situation.
- (A) Totally unacceptable
 - (B) Not helpful
 - (C) OK but not ideal
 - (D) A good thing to do
8. Try to contact with the South Delhi Shop Manager or the Team Leader.
- (A) Totally unacceptable
 - (B) Not helpful
 - (C) OK but not ideal
 - (D) A good thing to do

निर्देश (प्र. क्र. 4 से 9) :

स्थिति : प्रातःकाल 9.45 बजे का समय है तथा आप गुड़गाँव में स्थित अपनी दुकान पर कार द्वारा अभी-अभी पहुँचे हैं। आप एक मीटिंग में जाने वाले हैं कि आपके कार्यक्षेत्र में पड़ने वाली द साउथ देहली शॉप स्थित हेड ऑफिस से आपको एक लिखित संदेश प्राप्त हुआ है। जहाँ आप इस समय हैं वहाँ से यह दूरी 1 घंटे की है।

संदेश: साउथ देहली शॉप पर पार्ट-टाइम सेल्स असिस्टेंट से कॉल आयी है। आज प्रबन्धक तथा टीम लीडर दोनों ही नजर नहीं आ रहे हैं। क्या स्टाफ दुकान बंद कर दे अथवा चालू रखी जाय। नया स्टाफ है। निश्चय नहीं कर पा रहा है कि क्या किया जाये ?

4. दुकान पर अपने स्टाफ की मदद के लिए 'साउथ देहली शॉप' की ओर 1 घंटा का सफर (डाइव) करना :

- (A) पूर्ण रूप से अस्वीकार्य है
- (B) सहायक नहीं
- (C) ठीक है, लेकिन आदर्श नहीं है
- (D) अच्छा कार्य है

5. संदेश को स्पष्ट करने के लिए शीघ्र हेड ऑफिस को टेलीफोन करना :

- (A) पूर्ण रूप से अस्वीकार्य है
- (B) सहायक नहीं
- (C) ठीक है, लेकिन आदर्श नहीं है
- (D) अच्छा कार्य है

6. किसी अन्य शॉप मैनेजर अथवा टीम लीडर को प्राप्त करने की कोशिश करना, जो आस-पास का हो तथा जो साउथ देहली शॉप तक आ-जा सके :

- (A) पूर्ण रूप से अस्वीकार्य है
- (B) सहायक नहीं
- (C) ठीक है, लेकिन आदर्श नहीं है
- (D) अच्छा कार्य है

7. अतिशीघ्र साउथ देहली शॉप को स्थिति स्पष्ट करने के लिए टेलीफोन करना :

- (A) पूर्ण रूप से अस्वीकार्य है
- (B) सहायक नहीं
- (C) ठीक है, लेकिन आदर्श नहीं है
- (D) अच्छा कार्य है

8. साउथ देहली शॉप के मैनेजर (प्रबंधक) अथवा टीम लीडर से संपर्क करने की कोशिश करना :

- (A) पूर्ण रूप से अस्वीकार्य है
- (B) सहायक नहीं
- (C) ठीक है, लेकिन आदर्श नहीं है
- (D) अच्छा कार्य है

9. Immediately telephone the South Delhi Shop instructing them to apologise to customers and close the shop :
- (A) Totally unacceptable
 - (B) Not helpful
 - (C) OK but not ideal
 - (D) A good thing to do
10. Deepak is working in an organization. He has been asked to give an explanation for not attending an important official meeting. His immediate boss did not inform him about the meeting. But now he is putting pressure on Deepak not to place an allegation against him. What Deepak should do ?
- (A) Seek an appointment with the top boss to explain the situation.
 - (B) Send a written reply explaining the fact.
 - (C) Put the responsibility on the coordinator of the meeting for not informing.
 - (D) Admit his fault to save the situation.
11. Rajat has been appointed officer-in-charge of an area which has been affected by devastating flood. He has been assigned the task of providing medical and other facilities to the affected people. Despite his best effort people put allegations against him for making money out of the funds given for relief. Rajat would :
- (A) Ask his senior to appoint another person in his place.
 - (B) Not to pay attention to allegations.
 - (C) Let an enquiry be set up to look into the matter.
 - (D) Stop undertaking any initiative until the matter is resolved.

9. तुम्हें 'साउथ देहली शॉप' को टेलीफोन करके सूचित करना कि ग्राहकों से उनके कष्ट के लिए माफ़ी माँगते हुए दुकान बंद कर दें :

- (A) पूर्ण रूप से अस्वीकार्य है
- (B) सहायक नहीं
- (C) ठीक है, लेकिन आदर्श नहीं है
- (D) अच्छा कार्य है

10. दीपक किसी संगठन में कार्य कर रहा है। एक अति आवश्यक आधिकारिक मीटिंग में अनुपस्थित रहने के कारण उससे स्पष्टीकरण माँगा गया है। उसके तात्कालिक अधिकारी (बॉस) ने मीटिंग के बारे में उसे कोई सूचना नहीं दी थी। लेकिन अब वह दीपक पर इस बात का दबाव डाल रहा है कि वह (दीपक) उसके (अधिकारी के) विरुद्ध अभिकथन (दोषारोपण) न करे। दीपक को क्या करना चाहिए ?

- (A) शीर्ष अधिकारी से वस्तुस्थिति स्पष्ट करने हेतु साक्षात्कार करने की जुगत लगाना
- (B) वस्तुस्थिति स्पष्ट करते हुए लिखित जवाब भेजना
- (C) मीटिंग के समन्वयक के ऊपर सूचित न करने की जिम्मेदारी डालना
- (D) स्थिति पर नियन्त्रण रखने के लिए अपना दोष स्वीकार कर लेना

11. रजत को उस क्षेत्र का ऑफ़ीसर-इन-चार्ज बनाया गया जो विध्वंसकारी बाढ़ प्रभावित है। उसे प्रभावित लोगों तक मेडिकल तथा अन्य सुविधाओं को पहुँचाने का कार्य सौंपा गया है। सर्वोत्तम प्रयास करने के बावजूद भी लोगों ने उस पर सहायतार्थ दी गयी निधि में से रुपये हड़पने का दोषारोपण किया है। रजत :

- (A) अपने वरिष्ठ से अपने स्थान पर दूसरे व्यक्ति को नियुक्त करने को कहेगा।
- (B) उस दोषारोपण की ओर कोई ध्यान नहीं देगा।
- (C) वस्तुस्थिति पर निगरानी रखने के लिए गठित जाँच-पड़ताल होने देगा।
- (D) जब तक मामला सुलझ नहीं जाता तब तक किसी प्रकार पहल न कर उत्तर-दायित्व लेना बन्द कर देगा।

12. A state government wants to set up a big project in a village. But the land required for the project is owned by a group of 6-7 families. The Village Panchayat wants to go ahead with the project without caring for the objections of the owners of the land for compensation and related matters. The attitude of the Panchayat is :

- (I) Justified because most of the villagers will benefit.
- (II) Justified because the total economic welfare of the village will increase.
- (III) Unjustified because those who have to sacrifice have to be reasonably compensated.
- (IV) Justified because the gains of the majority of the villagers should be set off against the losses to the few.

Which of the above is *correct* ?

- (A) Only I
- (B) Only II
- (C) All the four (I, II, III & IV)
- (D) Only III

13. Ram before joining the job in the city was living in his village. He was very popular among his friends and relatives. After joining the job he is living in the city where he is working. Ram checked his appointment diary before coming home in the evening. Tomorrow he has to attend a routine meeting in office. When he went home in the evening he receives a message from a close relative from village, who is coming to the city where Ram is living. He (the relative) has asked Ram to meet him at the station. Ram is in dilemma because he has already used up his allowed days of ordinary leave. Ram's wife advises him to take medical leave feigning a non-existent stomach upset. Ram should :

- (A) Follow her advice
- (B) Not only follow her advice but also send a fictitious medical certificate to office.
- (C) Besides sending the false medical certificate, after resuming duty, pretend to be recovering from the ailment.
- (D) Inform the relative of his official engagement and offer help through another friend.

12. एक राज्य सरकार एक गाँव में एक बड़ी योजना चालू करना चाहती है। लेकिन योजना के लिए अपेक्षित भूमि पर 6-7 परिवारों के समूह का स्वामित्व है। ग्राम पंचायत भू-स्वामियों के मुआवजे तथा सम्बन्धित अन्य मामलों के विरोध की चिन्ता न करते हुए योजना चालू होने के पक्ष में है। पंचायत का दृष्टिकोण :

- (I) न्यायोचित है क्योंकि अधिकांश ग्रामीण लाभान्वित होंगे।
- (II) न्यायोचित है क्योंकि गाँव का कुल आर्थिक हित बढ़ेगा।
- (III) न्यायोचित नहीं है क्योंकि जिन्होंने अपनी भूमि का बलिदान किया उन्हें उचित मुआवजा मिलना चाहिए।
- (IV) न्यायोचित है क्योंकि कुछेक की हानियों की तुलना में अधिकांश ग्रामीणों को लाभ पहुँच रहा है।

उपर्युक्त में से कौनसा सत्य है ?

- (A) केवल I
- (B) केवल II
- (C) I, II, III तथा IV सभी चार
- (D) केवल III

13. शहर में जाँब मिलने से पूर्व राम अपने गाँव में रह रहा था। वह अपने मित्रों तथा संबंधियों के बीच बहुत लोकप्रिय था। जाँब मिलने के बाद वह शहर में रहने लगा जहाँ वह कार्य करता है। शाम को घर आने के पूर्व राम ने अपनी साक्षात्कार की डायरी का निरीक्षण किया। अगले दिन उसे ऑफिस में रूटीन मीटिंग में उपस्थित होना है। शाम को जब वह घर गया तो गाँव के एक घनिष्ठ संबंधी का उसे संदेश मिलता है कि वह (संबंधी) शहर आ रहा है जहाँ राम रहता है। उसने (संबंधी ने) राम से स्टेशन पर मिलने की बात कही है। राम किंकर्तव्यविमूढ़ (क्या करे और क्या न करे) की स्थिति में आ जाता है क्योंकि अनुमत दिनों की साधारण छुट्टी का वह उपयोग कर चुका था। राम की पत्नी उसे अकस्मात् पेट की गड़बड़ी होने का बहाना बनाकर मेडीकल लीव लेने का परामर्श देती है। राम को :

- (A) उसके (पत्नी के) सुझाव पर चलना चाहिए।
- (B) न केवल उसका सुझाव मानना चाहिए अपितु ऑफिस को फर्जी मेडीकल प्रमाण पत्र बनवाकर भेजना चाहिए।
- (C) झूठ मेडीकल प्रमाण पत्र देने की अपेक्षा रोग से राहत मिलने का बहाना करके स्टेशन से लौटने के बाद छुट्टी करनी चाहिए।
- (D) संबंधी को ऑफिस कार्य में लिप्त रहने की सूचना देना तथा अपने अन्य मित्र के द्वारा सहायता उपलब्ध कराने की कहना चाहिए।

14. You are posted as a block level officer in-charge in a district. Based on directions from seniors and higher officials an eye camp for conducting cataract operations for the poor and needy is organized. This program has been well publicised and is likely to be attended by senior officials and political leaders. However, a day before the program, the surgeons strongly opine that the proposed site and environment of the camp can pose hygiene issues. You fear that the cancellation of the camp will reflect badly on your site selection. What action under these circumstances will you take ?
- (A) Inform the higher officials of the situation and cancel the camp.
 - (B) Try to persuade the patients not to come to the camp.
 - (C) Leave the whole matter to be decided by the surgeons and your senior officers.
 - (D) Fumigate and clean up the environs and request the surgeons to reconsider their views.
15. Rashmi has to complete a very important assignment of her office in the next three days. Suddenly she met with an accident. Her office insists that she complete the assignment. Rashmi would :
- (A) Inform office of her inability to finish in time.
 - (B) Ask for an extension of deadline.
 - (C) Stay away till she recover.
 - (D) Suggest alternate person to office who may do the needful.
16. The government has launched a scheme for the benefit of the people. This has become very popular and large number of people are applying for it. In fact the office is flooded with applications from the people who want to get benefit from this scheme. Rohan is the officer in-charge of the office responsible for implementation of this scheme. There is speculation in public that benefits of the scheme will be given first to the influential people and others will be left behind. What Rohan should do (as the best way) for allaying such fears ?
- (A) Take no action since such fears are groundless.
 - (B) Issue a statement in press assuring people of fair play.
 - (C) Place daily updated information on your office website and notice board showing the datewise list of the applications and your approvals.
 - (D) Hold a press conference and tell people not to believe any rumours.

14. आपकी एक जिले में ब्लॉक स्तर पर ऑफिसर इन-चार्ज के रूप में नियुक्ति की गयी है। वरिष्ठ तथा उच्चतर अधिकारियों के निर्देशन में निर्धनों तथा जरूरतमंदों के मोतियाबिन्द ऑपरेशन के लिए एक नेत्र कैम्प का आयोजन किया गया है। इस प्रोग्राम का प्रचार भलीभाँति किया गया था तथा इसमें वरिष्ठ अधिकारियों तथा राजनीतिक नेताओं का आगमन भी सुनिश्चित है। प्रोग्राम के एक दिन पूर्व सर्जनों का पुरजोर राय थी कि कैम्प का प्रस्तावित स्थल तथा पर्यावरण स्वास्थ्यकर मामलों में मानदेय नहीं है। आपको डर है कि कैम्प का रहकरण आपके स्थल चुनाव को घुरी तरह से प्रदर्शित करेगा। इन परिस्थितियों में आप कौनसी कार्यवाही करेंगे ?

- (A) उच्च अधिकारियों को वस्तुस्थिति से अवगत करावेंगे तथा कैम्प को रद्द करा देंगे।
- (B) रोगियों को कैम्प में न जाने के लिए कहेंगे।
- (C) सम्पूर्ण मामले को सर्जनों तथा अपने उच्च अधिकारियों द्वारा लिखे गये निर्णय पर छोड़ देंगे।
- (D) उस जगह के वातावरण को धुँआ देकर तथा स्वच्छ कर सर्जनों से उनके अपने दृष्टिकोण पर पुनः विचारण की प्रार्थना करेंगे।

15. रश्मि को अगले तीन दिनों में अपने ऑफिस के एक अति महत्वपूर्ण असाइनमेंट को पूरा करना है। अचानक वह दुर्घटनाग्रस्त हो गई। उसका ऑफिस उस असाइनमेंट को पूरा करने की जिद कर रहा है। रश्मि :
 (A) ऑफिस को सूचित करेगी कि वह समय पर असाइनमेंट पूरा करने में असमर्थ है।
 (B) बेमियाद काल तक समय बढ़ाने की माँग करेगी।
 (C) स्वस्थ होने तक रुक जाने को कहेगी।
 (D) ऑफिस के एक वैकल्पिक व्यक्ति को जो यह कार्य पूरा कर सके नियुक्त करने का सुझाव देगी।

16. सरकार ने लोगों के लाभार्थ एक स्कीम चालू की है। यह स्कीम बहुत लोकप्रिय हुई तथा बड़ी संख्या में लोगों ने इसके लिए आवेदन किया। वास्तव में इस स्कीम से लाभान्वित होने के लिए यह ऑफिस लोगों के आवेदन पत्रों से भर गया। रोहन ऑफिस इन्चार्ज है जिसे इस स्कीम को चालू करने की जिम्मेदारी है। लोगों के बीच गलतफहमी है कि इस स्कीम का लाभ सर्वप्रथम केवल प्रभावी लोगों को ही मिलेगा अन्य लोगों को इससे वंचित कर दिया जायेगा। रोहन सर्वोत्तम ढंग से क्या करे जिससे लोगों के बीच से यह डर की भावना समाप्त हो जाये ?

- (A) चूँकि लोगों के बीच यह भय बेबुनियाद है अतः वह कोई एक्शन नहीं लेगा।
- (B) लोगों को इस स्कीम के सदाशय के प्रति आश्वस्त करते हुए प्रेस में एक अभिकथन जारी करे।
- (C) अपने ऑफिस के वेबसाइट तथा सूचना पट्ट पर प्रतिदिन अपडेटेड सूचना, तिथिवार आवेदन पत्रों की लिस्ट और अपने सुझावों को दर्शाते हुए दी जाय।
- (D) एक प्रेस कॉन्फ्रेंस का आयोजन करके लोगों को अफवाहों पर विश्वास न करने के लिए कहा जाय।

17. Ramalingam is often late in reaching office. One day when he reaches in a meeting slightly late, his boss Thingujam quips "Here comes Ramalingam, Never on Time," and everyone in the meeting laughs. Thingujam's quip is :

- (A) Unjustified as Ramalingam could have been held up in traffic.
- (B) Unwarranted since it departs from the main item under discussion.
- (C) Justified since Ramalingam is a habitual late comer.
- (D) Unjustified as Thingujam should have admonished Ramalingam in private instead of Joking in public.

18. Dr. Dhan Singh works in an office. On instructions from his seniors Dr. Singh told his assistant Jagmohan to prepare a proposal for approving construction plans for a resort on sea coast. Jagmohan notices that a substantial part of the resort is falling within Coastal Regulatory Zone. Moreover, stipulations regarding CRZ do not seem to have been taken into account. When he brings out this to Dr. Dhan Singh's notice, he (Dr. Singh) gets irritated and says, 'Are you trying to teach me law'. Dr. Dhan Singh's reaction is :

- (A) Appropriate because senior officers know the law.
- (B) Improper in being needlessly impolite.
- (C) Proper since young officers have to be taught manners.
- (D) Improper since it is gratuitously offensive and refuses to look at the facts and law.

17. रामलिंगम ऑफिस प्रायः देरी से आते हैं । एक दिन जब वह मीटिंग में कुछ विलंब से पहुँचे तो उनके बाँस थिंगुजम इस पर उनकी चुटकी भरकर व्यंग्यपूर्ण ढंग से कहते हैं : "यहाँ रामानुजम पधार रहे हैं जो कभी समय पर नहीं आते" और मीटिंग में उपस्थित सभी लोग इस बात पर हँसने लगते हैं । थिंगुजम का यह व्यंग्य :

- (A) अन्यायपूर्ण है क्योंकि रामलिंगम ट्रेफिक जाम में फँस सकते थे ।
- (B) आश्वस्त नहीं है क्योंकि विवाद के अन्तर्गत यह मुख्य मद से भिन्न है ।
- (C) न्यायपूर्ण है क्योंकि रामलिंगम को देर से आने की आदत बन गयी है ।
- (D) अन्यायपूर्ण है क्योंकि ऐसी थिंगुराजम द्वारा रामलिंगम को व्यक्तिगत रूप से चेतावनी देनी चाहिये न कि सार्वजनिक रूप से मजाक करना ।

18. डॉ. धान सिंह एक ऑफिस में कार्य करते हैं । अपने वरिष्ठों के निर्देशानुसार डॉ. सिंह ने अपने सहायक जगमोहन से समुद्रतट पर रिसॉर्ट के निर्माण की योजना अप्रूवल तैयार करने को कहा । जगमोहन को पता चलता है कि रिसॉर्ट का अधिकांश समुद्र तटीय नियन्त्रण ज़ोन में आता है । इससे भी अधिक CRZ से संबंधित अनुबंध भी नहीं लिया मालूम पड़ता है । जब वह यह जानकारी डॉ. धानसिंह को देता है तो वह (डॉ. सिंह) चिढ़कर कहते हैं, 'तुम मुझे कानून सिखा रहे हो ।' धानसिंह की यह प्रतिक्रिया :

- (A) ठीक है क्योंकि वरिष्ठ अधिकारी कानून जानता है ।
- (B) अनुचित है इस प्रकार अनावश्यक रूप से क्रोधित होना ।
- (C) उचित है क्योंकि कनिष्ठ (छोटा) ऑफिसरों को सबक सिखाना चाहिए ।
- (D) अनुचित है क्योंकि यह अकारणतः आपराधिक है तथा तथ्यों तथा नियमों की अनदेखी दर्शाता है ।

19. Ramita is working on the reception desk of the corporate office of a company. She is asked to greet everyone who enter the office, with a smile, as it is considered a part of efforts to improve customer relations. Ramita objects to it feeling that it would seem an ingratiating gesture. Her seniors still insist. Is Ramita justified in her view ?
- (A) No, as greeting is a courtesy which is universally appreciated.
- (B) Yes, as such smiles look artificial.
- (C) Yes, as such views reflect regressive attitude towards women
- (D) Ramita represents the confident and liberated new generation of women
20. A good communicator should be :
- (A) Good speaker
- (B) Good listener
- (C) Both good speaker and listener
- (D) None of the above
21. Listening approximately constitutes :
- (A) 75% of the communication
- (B) 50% of the communication
- (C) 25% of the communication
- (D) More than 1/3rd of the communication
22. In work situations officials have to discuss the problems and find solutions. In your opinion which of the following are unprofessional ?
- (I) Insist on your person views.
- (II) Discuss the issues based on logic and facts.
- (III) Try to score debating points over others.
- (IV) Impress others with your knowledge.
- Now select the correct answer from the codes given below :
- (A) I and II
- (B) I, II and III
- (C) I and IV
- (D) I, III and IV

19. रमिता एक कम्पनी के कॉर्पोरेट ऑफिस में एक रिसेप्सनिस्ट के रूप में कार्य करती है। ऑफिस में प्रवेश करने वाले प्रत्येक व्यक्ति का मुस्कराकर अभिवादन करने के लिए उससे कहा गया है। जैसा कि माना जाता है कि मुस्कराकर अभिवादन करना ग्राहक संबंध सुधारने की एक प्रक्रिया है। रमिता यह सोचकर कि यह एक प्रकार से अंग प्रदर्शन है, इसका विरोध करती है। उसके वरिष्ठ अधिकारी फिर भी अपनी जिद पर अड़े हुए हैं। क्या रमिता का दृष्टिकोण न्यायसंगत है ?

- (A) नहीं, क्योंकि अभिवादन एक शिष्टाचार है जिसे विश्व में प्रशंसनीय माना गया है।
- (B) हाँ, क्योंकि इस प्रकार की मुस्कराहट कृत्रिम दिखाई देती है।
- (C) हाँ, क्योंकि ऐसे दृष्टिकोण औरतों के प्रति विपरीत अभिवृत्ति प्रदर्शित करती है।
- (D) रमिता नई पीढ़ी की औरत की विश्वस्तता तथा मुक्तता का प्रतिनिधित्व करती है।

20. एक कुशल संदेशवाहक को होना चाहिए :

- (A) एक अच्छा वक्ता
- (B) एक अच्छा श्रोता
- (C) एक अच्छा वक्ता तथा श्रोता दोनों
- (D) उपर्युक्त में से कोई नहीं

21. श्रवणन (श्रवण करने में) लगभग सम्मिलित होता है :

- (A) संदेश का 75%
- (B) संदेश का 50%
- (C) संदेश का 25%
- (D) संदेश के 1/3 (तिहाई भाग) से अधिक

22. वर्क सिचुएशन्स में अधिकारियों के बीच समस्याओं तथा उनका निदान ढूँढ़ने के संबंध में वाद-विवाद होना है। आपकी राय में निम्नलिखित में से कौनसे गैर-पेशेवर हैं ?

- (I) अपने वैयक्तिक दृष्टिकोण पर अड़े रहना
- (II) लॉजिक तथा तथ्यपूर्ण मामलों पर बहस करना
- (III) दूसरों के वाद-विवाद के बिन्दुओं को महत्व देना
- (IV) अपने ज्ञान से दूसरों को प्रभावित करना

अब नीचे दिये हुए संकेत से उचित उत्तर का चयन कीजिए :

- (A) I तथा II
- (B) I, II तथा III
- (C) I तथा IV
- (D) I, III तथा IV

23. Transactional Analysis (TA) is one of the important techniques used for developing interpersonal skills and understanding interpersonal relations. Who among the following is given the credit for developing TA ?
- (A) Eric Berne
 - (B) Thomas Haris
 - (C) Sigmund Freud
 - (D) John Paul Sartre
24. Which of the following is *not* a Communication style ?
- (A) Passive
 - (B) Obtrusive
 - (C) Assertive
 - (D) Aggressive
25. When someone listen to the other person with the best of intent and then become distracted, either by stray thoughts or by something that the other person has said. It is an example of :
- (A) Selective listening
 - (B) Partial listening
 - (C) Full listening
 - (D) Deep listening
26. The 'Bandwidth-Fidelity dilemma' in communication context refers to :
- (A) The size of the message
 - (B) The accuracy of the message
 - (C) The larger the size of the message the lesser will be the accuracy in communication
 - (D) None of the above
27. Which of the following is *correct* about functions of communication ?
- (I) Control
 - (II) Motivation
 - (III) Emotional expression
 - (IV) Information
- (A) Only I is true
 - (B) Only I, II and III are true
 - (C) I, II, III and IV are all true
 - (D) Only IV is true

23. अन्तर्व्यक्तिक कौशल तथा अन्तर्व्यक्तिक संबंधों के विकास में प्रयुक्त संव्यवहार विश्लेषण (TA) आवश्यक तकनीकों में से एक है। संव्यवहार विश्लेषण के विकास का श्रेय निम्नलिखित में से किसे दिया जाता है ?

- (A) एरिक बर्न
- (B) थॉमस हैरिस
- (C) सिगमंड फ्राइड
- (D) जॉन पॉल सार्त्र

24. निम्नलिखित में से कौनसी संदेश शैली नहीं है ?

- (A) निष्क्रिय (पैसिव)
- (B) धृष्ट (Obtrusive)
- (C) अभिकथनात्मक (Assertive)
- (D) आक्रामक (Aggressive)

25. जब कोई किसी की सद्इच्छा से बात सुनता है और तब विचार वैभिन्न्य अथवा दूसरे व्यक्ति ने जो कुछ कहा है उसके कारण मनोविक्षिप्त हो जाता है, यह उदाहरण है :

- (A) चयनात्मक श्रवणन का
- (B) आंशिक श्रवणन का
- (C) पूर्ण श्रवणन का
- (D) गहन श्रवणन का

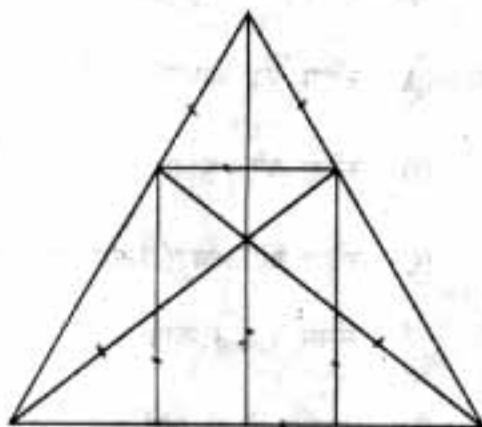
26. संचार के संदर्भ में 'बैंडविड्थ-फिडेलिटी डाइलेमा' संदर्भित करता है :

- (A) संदेश का आकार
- (B) संदेश की शुद्धता
- (C) संदेश का आकार जितना बड़ा होगा संचार शुद्धता उतनी ही कम होगी
- (D) उपर्युक्त में से कोई नहीं

27. निम्नलिखित में से कौनसा संचार के कार्यों के बारे में सत्य है ?

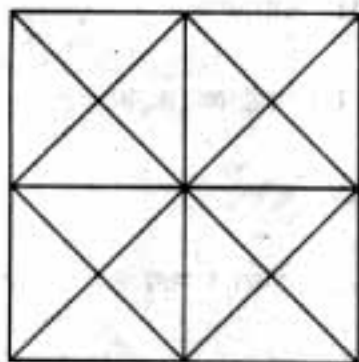
- (I) नियंत्रण
- (II) अभिप्रेरणा
- (III) भावात्मक उद्गार
- (IV) सूचना
- (A) केवल I सत्य है
- (B) केवल I, II तथा III सत्य हैं
- (C) I, II, III तथा IV सभी सत्य हैं
- (D) केवल IV सत्य है

28. How many straight lines are there in the figure ?



- (A) 8
(B) 9
(C) 10
(D) 11

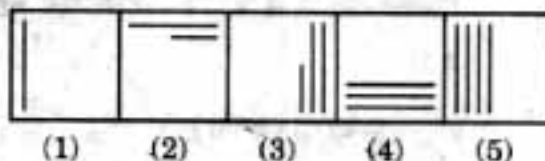
29. How many squares are there in the figure ?



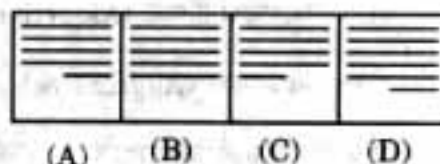
- (A) 10
(B) 16
(C) 6
(D) 9

30. Given below there are two sets of figures. One set is marked 1, 2, 3, 4 and 5 and is called the problem figures. The other set of figures is marked A, B, C and D and is called the answer figures. Select a figure from amongst the answer figures which will continue the same series as established by the five problem figures.

Problem Figures :



Answer Figures :

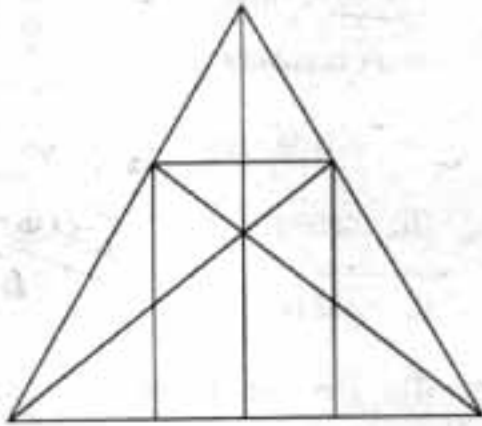


31. If $x + \frac{1}{x} = 10$, one of the values

of $x - \frac{1}{x}$ is :

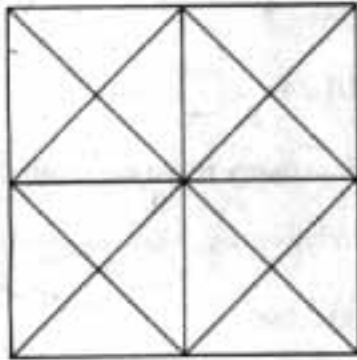
- (A) $-4\sqrt{6}$
(B) $4\sqrt{3}$
(C) $6\sqrt{3}$
(D) None of the above

28. चित्र में कितनी सरल रेखाएँ हैं ?



- (A) 8
- (B) 9
- (C) 10
- (D) 11

29. चित्र में कितने वर्ग हैं ?



- (A) 10
- (B) 16
- (C) 6
- (D) 9


30. नीचे चित्रों के दो सेट दिये गये हैं । चित्रों के एक सेट में 1, 2, 3, 4 तथा 5 अंकित हैं जिसे समस्या चित्र कहा गया है । चित्रों के दूसरे सेट में A, B, C तथा D अंकित हैं और इसे उत्तर चित्र कहा गया है । उत्तर चित्रों में से उस चित्र का चयन कीजिए जो पाँच समस्या चित्रों में दी गयी श्रेणी को निरन्तर बनाये रखे ।

समस्या चित्र :



(1) (2) (3) (4) (5)

उत्तर चित्र :



(A) (B) (C) (D)

31. यदि $x + \frac{1}{x} = 10$, तो $x - \frac{1}{x}$ का एक मान होगा :

- (A) $-4\sqrt{6}$
- (B) $4\sqrt{3}$
- (C) $6\sqrt{3}$
- (D) उपर्युक्त में से कोई नहीं

32. H.C.F. of $\frac{1}{8}, \frac{5}{12}, \frac{3}{10}$ is :

(A) $\frac{1}{4}$

(B) $\frac{15}{96}$

(C) $\frac{1}{12}$

(D) $\frac{1}{120}$

33. The value of

$$\frac{0.625 \times 0.625 - 0.375 \times 0.375}{0.25}$$

is equal to :

(A) 0.250

(B) 0.750

(C) 1.000

(D) 1.625

34. If $\frac{625}{x} = \frac{x}{\sqrt{12.96}}$, then one of the values of 'x' is :

(A) 9.0

(B) $-15\sqrt{10}$

(C) $10\sqrt{15}$

(D) 15.0

35. If H.C.F. of two numbers 336 and 414 is 6, then the L.C.M. of the same numbers is :

(A) 23184

(B) 69552

(C) 139104

(D) None of the above

36. Product of zeros of the polynomial

$$5x^2 - 4x - 20 \text{ is :}$$

(A) $-\frac{4}{5}$

(B) $\frac{4}{5}$

(C) -4

(D) 4

37. How many three-digit numbers are divisible by 3 ?

(A) 299

(B) 298

(C) 301

(D) 300

32. $\frac{1}{8}, \frac{5}{12}, \frac{3}{10}$ का महत्तम समापवर्तक है :

(A) $\frac{1}{4}$

(B) $\frac{15}{96}$

(C) $\frac{1}{12}$

(D) $\frac{1}{120}$

33. $\frac{0.625 \times 0.625 - 0.375 \times 0.375}{0.25}$ का

मान है :

(A) 0.250

(B) 0.750

(C) 1.000

(D) 1.625

34. यदि $\frac{625}{x} = \frac{x}{\sqrt{12.96}}$, तो 'x' का एक मान होगा :

(A) 9.0

(B) $-15\sqrt{10}$

(C) $10\sqrt{15}$

(D) 15.0

35. यदि दो संख्याओं 336 तथा 414 का म.स.प. 6 है, तो इन्हीं संख्याओं का ल.स.प. होगा :

(A) 23184

(B) 69552

(C) 139104

(D) उपर्युक्त में से कोई नहीं

36. बहुपद $5x^2 - 4x - 20$ की 0 का गुणन-फल होता है :

(A) $-\frac{4}{5}$

(B) $\frac{4}{5}$

(C) -4

(D) 4

37. कितनी तीन-अंकीय संख्याएँ 3 से विभाज्य हैं ?

(A) 299

(B) 298

(C) 301

(D) 300

38. Sum of all terms of the series
 $-3, -1, 1, 3, 5, \dots, 51$
 is :
 (A) 675
 (B) 672
 (C) 700
 (D) 840
39. Sum of two irrational numbers :
 (A) is a rational number
 (B) is an irrational number
 (C) is an imaginary number
 (D) can't draw any conclusion
40. If $A : B = 5 : 6$ and $B : C = 8 : 15$,
 then $C : A$ is :
 (A) $\frac{1}{3}$
 (B) $\frac{4}{9}$
 (C) $\frac{13}{21}$
 (D) $\frac{9}{4}$
41. The mean of 10 numbers is 25.
 If each number is multiplied by
 10^{-1} , the new mean is :
 (A) 250
 (B) 2.5
 (C) 25
 (D) $1/250$
42. A cricketer has a mean score of 55
 runs in 10 innings. How many runs
 are to be scored by him in eleventh
 inning to reduce the mean score
 to 50 ?
 (A) 45
 (B) 40
 (C) 0
 (D) 10
43. The mode and median of
 observations, 5, 4, 4, 3, 5, 3, 3, 4,
 3, 5, 4, 3, 5 are :
 (A) mode = 3, median = 5
 (B) mode = 3, median = 3
 (C) mode = 4, median = 3
 (D) mode = 3, median = 4
44. Mean of numbers
 $1^2, 2^2, 3^2, \dots, 20^2$
 is :
 (A) 143.5
 (B) 144.5
 (C) 143
 (D) 2870

38. $-3, -1, 1, 3, 5, \dots, 51$ श्रेणी के सभी पदों का योग होगा :

- (A) 675
- (B) 672
- (C) 700
- (D) 840

39. दो अपरिमेय संख्याओं का योग :

- (A) एक परिमेय संख्या है
- (B) एक अपरिमेय संख्या है
- (C) एक काल्पनिक संख्या है
- (D) किसी निष्कर्ष पर नहीं पहुँचा जा सकता है

40. यदि $A : B = 5 : 6$ तथा $B : C = 8 : 15$, तो $C : A$ बराबर है :

- (A) $\frac{1}{3}$
- (B) $\frac{4}{9}$
- (C) $\frac{13}{21}$
- (D) $\frac{9}{4}$

41. 10 संख्याओं का माध्य 25 है। यदि प्रत्येक संख्या को 10^{-1} से गुणा किया जाय, तो नया माध्य होगा :

- (A) 250
- (B) 2.5
- (C) 25
- (D) $1/250$

42. किसी क्रिकेटर (क्रिकेट खिलाड़ी) की 10 पारियों का औसत स्कोर 55 रन है। ग्यारहवीं पारी में औसत स्कोर 50 रन करने के लिए उसे कितने रन बनाने चाहिए ?

- (A) 45
- (B) 40
- (C) 0
- (D) 10

43. प्रेक्षण 5, 4, 4, 3, 5, 3, 3, 4, 3, 5, 4, 3, 5 का बहुलक तथा माध्यिका है :

- (A) बहुलक = 3, माध्यिका = 5
- (B) बहुलक = 3, माध्यिका = 3
- (C) बहुलक = 4, माध्यिका = 3
- (D) बहुलक = 3, माध्यिका = 4

44. संख्या $1^2, 2^2, 3^2, \dots, 20^2$ का माध्य है :

- (A) 143.5
- (B) 144.5
- (C) 143
- (D) 2870

45. Median of first 6 prime numbers is :
- (A) 5
(B) 6
(C) 7
(D) 8
46. The weight (in kg) of different students are as follows :
- 31, 35, 27, 29, 32, 43, 37, 41, 34, 28, 36, 44, 45, 42, 30.
- The median is :
- (A) 41
(B) 37
(C) 34
(D) 35
47. For what value of 'x', is the mode of the following data ?
- 3, 2, 6, 7, 5, 4, 7, 5, 6, $x^2 - 2$, 8, 2
- (A) 9
(B) 4
(C) -3
(D) None of the above
48. The mean of 100 observations is 50. If one of the observations which was 50 was replaced by 150, the resulting mean will be :
- (A) 51
(B) 50.5
(C) 51.5
(D) 52
49. If the value of mode is 35.5 and the value of mean is 22, the value of median will be :
- (A) 25.5
(B) 24.5
(C) 26.5
(D) None of the above
50. Shoe size of most of the men in India is No. 8. Which measures of central tendency does it represent ?
- (A) Median
(B) Mode
(C) Mean
(D) None of the above

45. प्रथम 6 अभाज्य संख्याओं की माध्यिका है :

(A) 5

(B) 6

(C) 7

(D) 8

46. विभिन्न विद्यार्थियों का भार (किग्रा. में)

निम्नलिखित है :

31, 35, 27, 29, 32, 43, 37, 41, 34,
28, 36, 44, 45, 42, 30.

माध्यिका है :

(A) 41

(B) 37

(C) 34

(D) 35

47. 'x' का कौनसा मान निम्नलिखित समंक 7
का बहुलक होगा ?

3, 2, 6, 7, 5, 4, 7, 5, 6, $x^2 - 2$, 8, 2

(A) 9

(B) 4

(C) -3

(D) उपर्युक्त में से कोई नहीं

48. 100 प्रेक्षकों का माध्य 50 है । यदि उन
प्रेक्षकों में से एक जिसका मान 50 है, 150
के स्थान पर स्थानापन्न कर दिया जाता है
तो परिणामी माध्य होगा :

(A) 51

(B) 50.5

(C) 51.5

(D) 52

49. यदि बहुलक का मान 35.5 तथा माध्य का
मान 22 है, तो माध्यिका का मान होगा :

(A) 25.5

(B) 24.5

(C) 26.5

(D) उपर्युक्त में से कोई नहीं

50. भारत में अधिकांश मनुष्यों के जूतों का नंबर
8 है । केन्द्रीय प्रवृत्ति के कौनसे माप को
यह प्रदर्शित करता है ?

(A) माध्यिका

(B) बहुलक

(C) माध्य

(D) उपर्युक्त में से कोई नहीं

Directions (Question Nos. 51 to 55) :

Read the following passage and answer the questions that follow :

Courage is not merely a virtue, it's the virtue. Without it there are no other virtues. Faith, hope, charity—all the rest don't become virtues until it takes courage to exercise them. Courage isn't only the basis of all virtues; it's like its expression. True you may be bad and brave, but you can't be good without being brave. Courage is a mental state—an affair of spirit—and so it gets its strength from spiritual and intellectual sources. The way in which these spiritual and intellectual elements are blended produces roughly two types of courage. The first, an emotional state which urges a man to risk injury or death—physical

courage. The second, a more reasoning attitude which enables him coolly to stake career, happiness, his whole future, on his judgment of what he thinks either right or worthwhile—moral courage. Both are distinct. To be really great, a man—or for that matter, a nation—must possess both kinds of courage.

51. The most appropriate title for the passage would be :
- (A) Courage : A Mere Virtue
 - (B) Ethics : The Basis of Courage
 - (C) Courage, the Virtue
 - (D) Physical Courage *versus* Moral Courage
52. Physical and moral courages are :
- (A) Interchangeable
 - (B) Exactly alike
 - (C) Distinct
 - (D) Opposite to each other

निर्देश (प्र. क्र. 51 से 55) : निम्नलिखित अवतरण को पढ़िये और दिए गए प्रश्नों के उत्तर दीजिए :

Courage is not merely a virtue, it's the virtue. Without it there are no other virtues. Faith, hope, charity—all the rest don't become virtues until it takes courage to exercise them. Courage isn't only the basis of all virtues; it's like its expression. True you may be bad and brave, but you can't be good without being brave. Courage is a mental state—an affair of spirit—and so it gets its strength from spiritual and intellectual sources. The way in which these spiritual and intellectual elements are blended produces roughly two types of courage. The first, an emotional state which urges a man to risk injury or death—physical

courage. The second, a more reasoning attitude which enables him coolly to stake career, happiness, his whole future, on his judgment of what he thinks either right or worthwhile—moral courage. Both are distinct. To be really great, a man—or for that matter, a nation—must possess both kinds of courage.

51. The most appropriate title for the passage would be :
- (A) Courage : A Mere Virtue
 - (B) Ethics : The Basis of Courage
 - (C) Courage, the Virtue
 - (D) Physical Courage *versus* Moral Courage
52. Physical and moral courages are :
- (A) Interchangeable
 - (B) Exactly alike
 - (C) Distinct
 - (D) Opposite to each other

53. Courage enables to become great.
- (A) both the individual and the nation
 - (B) only a nation
 - (C) only an individual
 - (D) neither the individual nor the nation
54. Physical courage is described as :
- (A) independent of one's psychological state
 - (B) dependent on one's physical strength
 - (C) a matter of fine intellect
 - (D) an emotional state
55. Other virtues, according to author, become virtues when :
- (A) they come together
 - (B) they are expressed
 - (C) they blend into thoughts
 - (D) they become imperceptible

Directions (Question Nos. 56 to 60) :

Read the following passage and answer the questions that follow :

It is said that wars are fought for the sake of peace. Many a politician justifies wars as being the means of bringing about stability in the international relations. So far as the aim of those who are always busy in society is concerned, their motive is not always to achieve freedom from work. Their ultimate purpose is not to be idle. To be busy is a mode of life or habit. Those who are busy in society, say, businessmen, or people in authority, politicians or statesmen, officials or employees, are all part of the continuous machine which keeps the society going.

People are busy so that different activities of a society are carried out and the wherewithal which mankind badly needs are provided. No society, however, prosperous and endowed with bounties of nature, can afford to have the objective of being idle in the long

53. Courage enables to become great.

- (A) both the individual and the nation
- (B) only a nation
- (C) only an individual
- (D) neither the individual nor the nation

54. Physical courage is described as :

- (A) independent of one's psychological state
- (B) dependent on one's physical strength
- (C) a matter of fine intellect
- (D) an emotional state

55. Other virtues, according to author, become virtues when :

- (A) they come together
- (B) they are expressed
- (C) they blend into thoughts
- (D) they become imperceptible

निर्देश (प्र. क्र. 56 से 60) : निम्नलिखित अवतरण को पढ़िये और दिए गए प्रश्नों के उत्तर दीजिए :

It is said that wars are fought for the sake of peace. Many a politician justifies wars as being the means of bringing about stability in the international relations. So far as the aim of those who are always busy in society is concerned, their motive is not always to achieve freedom from work. Their ultimate purpose is not to be idle. To be busy is a mode of life or habit. Those who are busy in society, say, businessmen, or people in authority, politicians or statesmen, officials or employees, are all part of the continuous machine which keeps the society going.

People are busy so that different activities of a society are carried out and the wherewithal which mankind badly needs are provided. No society, however, prosperous and endowed with bounties of nature, can afford to have the objective of being idle in the long

run. Not doubt, advanced countries ensure minimum facilities of living and amenities of work for their workmen; they even fix their working hours so that after their busy day's life they can have some leisure at their disposal for self development or peace of mind. Yet, with the passage of time a busy society has the tendency to become busier. Even with the best computers and automation at the disposal of the modern technocrats manpower continues to remain busy, as one phase of achievement leads automatically to the second phase of work. War may have the intention of peace but business is unending so long as a society has the objective of progress and does not become stationary or stagnant or decadent.

56. According to the passage, busy people :
- (A) want freedom from work
 - (B) want to be idle
 - (C) do not like rest
 - (D) are part of a machine which runs society

57. Why are people busy ?
- (A) To carry out different activities of society
 - (B) To provide needs of mankind
 - (C) Both (A) and (B)
 - (D) None of the above
58. The author says that :
- (A) no society can be idle
 - (B) developed countries can be idle
 - (C) underdeveloped countries can be idle
 - (D) all of the above
59. Computer and automation :
- (A) have made man idle
 - (B) could not relieve man from busy life
 - (C) both (A) and (B)
 - (D) none of the above
60. With the passage of time man is becoming busier because :
- (A) he likes to be busy
 - (B) he is born to be busy
 - (C) to be busy is mode of life
 - (D) laws compel him to be busy

run. Not doubt, advanced countries ensure minimum facilities of living and amenities of work for their workmen; they even fix their working hours so that after their busy day's life they can have some leisure at their disposal for self development or peace of mind. Yet, with the passage of time a busy society has the tendency to become busier. Even with the best computers and automation at the disposal of the modern technocrats manpower continues to remain busy, as one phase of achievement leads automatically to the second phase of work. War may have the intention of peace but business is unending so long as a society has the objective of progress and does not become stationary or stagnant or decadent.

56. According to the passage, busy people :
- (A) want freedom from work
 - (B) want to be idle
 - (C) do not like rest
 - (D) are part of a machine which runs society

57. Why are people busy ?
- (A) To carry out different activities of society
 - (B) To provide needs of mankind
 - (C) Both (A) and (B)
 - (D) None of the above
58. The author says that :
- (A) no society can be idle
 - (B) developed countries can be idle
 - (C) underdeveloped countries can be idle
 - (D) all of the above
59. Computer and automation :
- (A) have made man idle
 - (B) could not relieve man from busy life
 - (C) both (A) and (B)
 - (D) none of the above
60. With the passage of time man is becoming busier because :
- (A) he likes to be busy
 - (B) he is born to be busy
 - (C) to be busy is mode of life
 - (D) laws compel him to be busy

Directions (Question Nos. 61 to 65) :

Each sentence below has two blanks and is followed by four sets of words. Choose the set of words that best fills in the blanks.

61. Urbanization means of population leading to high of population in big cities.
- (A) compilation; ratio
(B) concentration; density
(C) accumulation; number
(D) migration; increase
62. of a suitable hobby depends on the time that you can devote to it, the money you can afford, and your
- (A) Selection; aptitude
(B) Mastery; psychology
(C) Acquiring; sex
(D) Management; eminence

63. It is the current fashion to a show of in covering a funeral, except when there is extraordinary justification for such a display.
- (A) mistake; comedy
(B) encourage; tragedy
(C) discourage; melodrama
(D) avoid; emotions
64. In a world that poses the threat of total through war against the hope for the of all mankind through revolution, no cause is left but the cause of freedom versus tyranny.
- (A) annihilation; emancipation
(B) nourishment; bondage
(C) promotion; enslavement
(D) construction; apartheid
65. The role of press cannot be even in a dictatorship, because a dictator also needs the press for his ideology and policies.
- (A) exploited; reflecting
(B) eulogized; writing
(C) misused; suppressing
(D) minimized; broadcasting

निर्देश (प्र. क्र. 61 से 65) : नीचे दिये गये प्रत्येक वाक्य में दो खाली स्थान हैं और शब्दों के चार सेट दिए गए हैं। शब्दों के सही सेट को चुनिये और खाली स्थान भरिये।

61. Urbanization means of population leading to high of population in big cities.
- (A) compilation; ratio
(B) concentration; density
(C) accumulation; number
(D) migration; increase
62. of a suitable hobby depends on the time that you can devote to it, the money you can afford, and your
- (A) Selection; aptitude
(B) Mastery; psychology
(C) Acquiring; sex
(D) Management; eminence

63. It is the current fashion to a show of in covering a funeral, except when there is extraordinary justification for such a display.
- (A) mistake; comedy
(B) encourage; tragedy
(C) discourage; melodrama
(D) avoid; emotions
64. In a world that poses the threat of total through war against the hope for the of all mankind through revolution, no cause is left but the cause of freedom versus tyranny.
- (A) annihilation; emancipation
(B) nourishment; bondage
(C) promotion; enslavement
(D) construction; apartheid
65. The role of press cannot be even in a dictatorship, because a dictator also needs the press for his ideology and policies.
- (A) exploited; reflecting
(B) eulogized; writing
(C) misused; suppressing
(D) minimized; broadcasting

Directions (Question Nos. 66 to 70) :

In each of the following questions a number series is given with one term missing. Choose the correct alternative that will continue the same pattern and fill in the blank space and replace the $\boxed{?}$.

66. 1, 4, 9, 16, 25, $\boxed{?}$

- (A) 48
- (B) 35
- (C) 36
- (D) 49

67. 3, 6, 18, 72, $\boxed{?}$

- (A) 216
- (B) 144
- (C) 288
- (D) 360

68. 5, 17, 37, 65, $\boxed{?}$, 145

- (A) 101
- (B) 99
- (C) 97
- (D) 95

69. 12, 32, 72, 152, $\boxed{?}$

- (A) 312
- (B) 325
- (C) 515
- (D) 613

70. 1, 6, 13, 22, 33, $\boxed{?}$

- (A) 45
- (B) 44
- (C) 46
- (D) 47

Directions (Question Nos. 71 and 72) :

In each of the following questions one term in the number series is wrong. Find out the wrong term.

71. 1, 5, 9, 16, 25, 37, 49

- (A) 9
- (B) 16
- (C) 25
- (D) 37

72. 6, 14, 30, 64, 126

- (A) 14
- (B) 6
- (C) 126
- (D) 64

निर्देश (प्र. क्र. 66 से 70) : निम्नलिखित प्रश्नों में प्रत्येक में एक संख्या श्रेणी दी गयी है जिसमें एक पद छूटा हुआ है। उस विकल्प का चयन कीजिए जो उसी प्रारूप को जारी रखकर रिक्त स्थान की पूर्ति कर [?] के स्थान पर स्थानापन्न हो सके।

66. 1, 4, 9, 16, 25, [?]

- (A) 48
- (B) 35
- (C) 36
- (D) 49

67. 3, 6, 18, 72, [?]

- (A) 216
- (B) 144
- (C) 288
- (D) 360

68. 5, 17, 37, 65, [?], 145

- (A) 101
- (B) 99
- (C) 97
- (D) 95

69. 12, 32, 72, 152, [?]

- (A) 312
- (B) 325
- (C) 515
- (D) 613

70. 1, 6, 13, 22, 33, [?]

- (A) 45
- (B) 44
- (C) 46
- (D) 47

निर्देश (प्र. क्र. 71 एवं 72) : निम्नलिखित प्रश्नों में प्रत्येक में एक संख्या श्रेणी का एक पद गलत है। उस गलत पद का चयन कीजिए।

71. 1, 5, 9, 16, 25, 37, 49

- (A) 9
- (B) 16
- (C) 25
- (D) 37

72. 6, 14, 30, 64, 126

- (A) 14
- (B) 6
- (C) 126
- (D) 64

73. If FACE is coded as GBDF, then
BADE will be coded as :

- (A) CEBF
- (B) CBEF
- (C) CBFE
- (D) CFBE

74. If RESULT is coded as 798206,
then LET will be coded as :

- (A) 096
- (B) 086
- (C) 092
- (D) 680

75. If GENIUS is coded as IGPKWU,
then IDIOT will be written in the
same code as :

- (A) HCHNS
- (B) JEJPU
- (C) KFKQV
- (D) LGLRW

Directions (Question Nos. 76 and 77) :

**In the questions given below
one term is missing. Based on
the relationship of the two
given words, find the missing
term from the given options.**

76. GFC : CFG :: RPJ : ?

- (A) JPR
- (B) JRP
- (C) PJR
- (D) RJP

77. DIMO : DMIO :: JUVR : ?

- (A) JVRU
- (B) JRVU
- (C) JUVR
- (D) JVUR

Directions (Question Nos. 78 and 79) :

**In each of the following series
determine the order of the
letters. Then from the given
options select the one which
will complete the given
series.**

78. Z, X, V, T, ?

- (A) Q
- (B) S
- (C) P
- (D) R

73. यदि FACE को GBDF के रूप में कोडित किया जाता है, तो BADE का कोड क्या होगा ?
- (A) CEBF
(B) CBEF
(C) CBFE
(D) CFBE
74. यदि RESULT को 798206 के रूप में कोडित किया जाता है, तो LET का कोड क्या होगा ?
- (A) 096
(B) 086
(C) 092
(D) 680
75. यदि GENIUS को IGPKWU के रूप में कोडित किया जाता है, तो उसी कोड में IDIOT किस प्रकार लिखा जायेगा ?
- (A) HCHNS
(B) JEJPU
(C) KFKQV
(D) LGLRW

निर्देश (प्र. क्र. 76 एवं 77) : निम्नलिखित प्रश्नों में प्रत्येक में एक पद छूटा हुआ है। दो दिये गये शब्दों के संबंधों के आधार पर दिये गये विकल्पों में से छूटे हुए पद को ज्ञात कीजिए।

76. GFC : CFG :: RPJ : ?
- (A) JPR
(B) JRP
(C) PJR
(D) RJP
77. DIMO : DMIO :: JUVR : ?
- (A) JVRU
(B) JRVU
(C) JUVR
(D) JVUR

निर्देश (प्र. क्र. 78 एवं 79) : निम्नलिखित प्रत्येक श्रेणी में वर्णों (अक्षरों) के क्रम का निर्धारण करें। तब दिये हुए विकल्पों में से उस विकल्प का चयन करें जो दी गयी श्रेणी को पूरा करे।

78. Z, X, V, T, ?
- (A) Q
(B) S
(C) P
(D) R

79. C, G, L, R, ?

(A) W

(B) X

(C) Y

(D) Z

Directions (Question Nos. 80 to 82) :

Which of the following group of letters will complete the given series ?

80. $ab - ccca - bccc - bbcc -$

(A) $abbc$

(B) $bbac$

(C) $bbca$

(D) $cabc$

81. $ab - ba - ba -$

(A) $abab$

(B) $baab$

(C) $abba$

(D) $baba$

82. $XXX - YY - XXY - YXX -$

(A) $YXYX$

(B) $XYXY$

(C) $YYXX$

(D) $XXYY$

SS : 12/(P)/02—C

83. 'Earth' is related to 'Axis' in the same way as 'Wheel' is related to?

(A) Car

(B) Tyre

(C) Hub

(D) Road

84. 'Neck' is related to 'Tie' in the same way as 'Waist' is related to?

(A) Belt

(B) Watch

(C) Ribbon

(D) Shirt

Directions (Question Nos. 85 and 86) :

In each of the following questions four words have been given, out of which three are alike in some manner and the fourth one is different. Choose out the odd one.

85. (A) Paddy,

(B) Wheat

(C) Mustard

(D) Jowar

86. (A) Apple

(B) Mango

(C) Potato

(D) Orange

79. C, G, L, R, ?

- (A) W
- (B) X
- (C) Y
- (D) Z

निर्देश (प्र. क्र. 80 से 82) : निम्नलिखित प्रश्नों में प्रत्येक प्रश्न में दी गयी श्रेणी को कौनसा वर्ण समूह पूरा करेगा ?

80. $ab - ccca - bccc - bbcc -$

- (A) $abbc$
- (B) $bbac$
- (C) $bbca$
- (D) $cabc$

81. $ab - ba - ba -$

- (A) $abab$
- (B) $baab$
- (C) $abba$
- (D) $baba$

82. $XXX - YY - XXY - YXX -$

- (A) $YXYX$
- (B) $XYXY$
- (C) $YYXX$
- (D) $XXYY$

83. 'पृथ्वी' का 'धुरी' से वही सम्बन्ध है जो सम्बन्ध 'पहिया' (चक्र) का निम्नलिखित से है :

- (A) कार
- (B) टायर
- (C) हब
- (D) सड़क

84. 'गर्दन' का 'टाई' से वही संबंध है जो संबंध 'कमर' का निम्नलिखित से है :

- (A) बेल्ट
- (B) धड़ी
- (C) रिबन (फोता)
- (D) कमीज

निर्देश (प्र. क्र. 85 एवं 86) : निम्नलिखित प्रश्नों में प्रत्येक में चार शब्द दिये गये हैं जिनमें से तीन शब्द किसी न किसी रूप में एक-समान हैं जबकि चौथा शब्द बेमेल है । इस बेमेल शब्द का चयन कीजिए ।

85. (A) धान
(B) गेहूँ
(C) सरसों
(D) ज्वार

86. (A) सेव
(B) आम
(C) आलू
(D) संतरा

Directions (Question Nos. 87 to 89) :

In each of the following questions four words are given, out of which three are alike in some manner and one is different. Choose out the odd one.

87. (A) Jesus
(B) Mahavir
(C) M. Gandhi
(D) Marx
88. (A) Square
(B) Triangle
(C) Cube
(D) Rectangle
89. (A) Violet
(B) Green
(C) Red
(D) Yellow

Directions (Question Nos. 90 to 93) :

Read the following information and answer the questions given below :

In a school, there were five teachers. A and B were teaching Hindi and English. C and B were teaching English and Geography. D and A were teaching Mathematics and Hindi. E and B were teaching History and French.

90. Who among the following teachers teaches the maximum number of subjects ?
- (A) B
(B) A
(C) D
(D) C

91. Which of the following pairs was teaching both Geography and Hindi ?

(A) B and C
(B) A and C
(C) A and B
(D) None of the above

92. Which of the following subjects is taught by more than two teachers ?

(A) Mathematics
(B) History
(C) French
(D) English

93. Who among the following teachers teaches less than two subjects ?

(A) D
(B) C
(C) A
(D) None of the above

94. A matrix with one question mark in one block is given below. Select the correct response from the given alternatives which will replace the question mark [?] in the matrix.

K ₇	L ₄	M ₁₀
L ₈	M ₅	K ₁₂
?	L ₆	K ₁₄

- (A) M₉
(B) M₁₀
(C) K₉
(D) L₉

निर्देश (प्र. क्र. 87 से 89) : निम्नलिखित प्रश्नों में प्रत्येक में चार शब्द दिये गये हैं जिनमें से तीन शब्द किसी न किसी रूप में एक-समान हैं तथा चौथा शब्द भिन्न है। इस बेमेल शब्द का चयन कीजिए।

87. (A) ईसा मसीह
(B) महावीर
(C) महात्मा गांधी
(D) मार्क्स
88. (A) वर्ग
(B) त्रिभुज
(C) घन
(D) आयत
89. (A) बैंगनी
(B) हरा
(C) लाल
(D) पीला

निर्देश (प्र. क्र. 90 से 93) : निम्नलिखित सूचना को पढ़िए तथा इसके नीचे दिये हुए प्रश्नों के उत्तर दीजिए :

एक स्कूल में पाँच अध्यापक थे। A तथा B हिंदी तथा अंग्रेजी पढ़ा रहे थे। C तथा B अंग्रेजी तथा भूगोल पढ़ा रहे थे। D तथा A गणित तथा हिंदी पढ़ा रहे थे। E तथा B इतिहास तथा फ्रेंच पढ़ा रहे थे।

90. निम्नलिखित में से कौनसा अध्यापक सबसे अधिक विषय पढ़ाता है ?
- (A) B
(B) A
(C) D
(D) C

91. निम्नलिखित में से कौनसा युग्म (जोड़ा) भूगोल तथा हिंदी पढ़ाता है ?
- (A) B तथा C
(B) A तथा C
(C) A तथा B
(D) उपर्युक्त में से कोई नहीं
92. निम्नलिखित में से कौनसा विषय दो से अधिक अध्यापकों द्वारा पढ़ाया जाता है ?
- (A) गणित
(B) इतिहास
(C) फ्रेंच
(D) अंग्रेजी
93. निम्नलिखित में से कौनसा अध्यापक दो से कम विषय पढ़ाता है ?
- (A) D
(B) C
(C) A
(D) उपर्युक्त में से कोई नहीं
94. एक ब्लॉक (खंड) में एक प्रश्नचिह्न के साथ एक मैट्रिक्स (आव्यूह) दिया गया है। दिये गये विकल्पों में से उस सही विकल्प का चयन कीजिए जो आव्यूह (मैट्रिक्स) में प्रश्नचिह्न के स्थान पर स्थानापन्न किया जा सके।

K_7	L_4	M_{10}
L_8	M_5	K_{12}
?	L_6	K_{14}

- (A) M_9
(B) M_{10}
(C) K_9
(D) L_9

95. Find out the missing number ? from the given alternatives.



- (A) 5
(B) 3
(C) 13
(D) 8

Directions (Question Nos. 96 to 98) :

The following questions consist of two words each that have a certain relationship to each other followed by four pairs of words. Select the pair that has the same relationship as the original pair of words.

96. Optimistic : Pessimistic
(A) Tolerating : Disgusting
(B) Export : Import
(C) Stride : Play
(D) Difficult : Impossible
97. Bird : Wings
(A) Car : Wheel
(B) Pen : Paper
(C) Whale : Water
(D) Dog : Lungs

98. Stage : Theatre

- (A) Bedroom : Drawingroom
(B) Car : Road
(C) Patient : Hospital
(D) Classroom : School

99. Rashmi is the mother of Chinu and Cherry. If Arvind is the husband of Cherry, what is Rashmi to Arvind ?

- (A) Sister
(B) Daughter
(C) Mother-in-law
(D) Mother

100. Renu is the wife of Shyam. Shyam is the brother of Sohan. Sohan is the son of Prem. How is Prem related to Renu ?

- (A) Daughter
(B) Son
(C) Father-in-law
(D) Brother

95. दिये गये विकल्पों में से लुप्त संख्या (?) को ज्ञात कीजिए :



- (A) 5
(B) 3
(C) 13
(D) 8

निर्देश (प्र. क्र. 96 से 98) : निम्नलिखित प्रत्येक प्रश्न में दो शब्द दिये गये हैं जिनमें परस्पर कुछ निश्चित संबंध है। इनके नीचे चार शब्दों के जोड़े दिये गये हैं। उस जोड़े का चयन कीजिए जिसमें शब्दों के मूल जोड़े जैसा संबंध हो।

96. आशावादी : निराशावादी

- (A) सहनशील : अरुचिकर
(B) निर्यात : आयात
(C) अध्ययन : खेल
(D) कठिन : असंभव

97. पक्षी : पंख

- (A) कार : पहिया
(B) कलम (पेन) : कागज
(C) खेल : जल
(D) कुत्ता : फेफड़े

98. मंच (स्टेज) : रंगमंच

- (A) शयनकक्ष : ड्राइंगरूम
(B) कार : सड़क
(C) रोगी : अस्पताल
(D) कक्षा : विद्यालय

99. रश्मि, चीनू तथा चेरी की माँ है। यदि अरविन्द, चेरी का पति हो, तो रश्मि का अरविन्द से क्या संबंध है ?

- (A) बहिन
(B) पुत्री
(C) सास
(D) माँ

100. रेणु, श्याम की पत्नी है। श्याम, सोहन का भाई है। सोहन, प्रेम का पुत्र है। रेणु से प्रेम का क्या संबंध है ?

- (A) पुत्री
(B) पुत्र
(C) ससुर
(D) भाई

जब तक आपको यह परीक्षण पुस्तिका खोलने को न कहा जाए तब तक न खोलें

SS : 12/(P)/02

परीक्षण पुस्तिका अनुक्रम

सेशन : अपराह्न
अभिवृत्ति परीक्षण
प्रश्न-पत्र II

C

समय : दो घण्टे]

[पूर्णांक : 200

अनुदेश

1. परीक्षा प्रारम्भ होने के तुरन्त बाद, आप इस परीक्षण पुस्तिका की पड़ताल अवश्य कर लें कि इसमें कोई बिना छपा, फटा या छूटा हुआ पृष्ठ अथवा प्रश्नांश आदि न हो। यदि ऐसा हो, तो इसे सही परीक्षण पुस्तिका से बदल लीजिए।
2. सही स्थान पर परीक्षण पुस्तिका अनुक्रम A, B, C या D चयनास्थिति स्पष्ट रूप से कूटबद्ध कीजिए।
3. इस परीक्षण पुस्तिका पर साथ में दिए गए कोष्ठक में आपको अपना अनुक्रमांक लिखना है। परीक्षण पुस्तिका पर और कुछ न लिखें।
4. इस परीक्षण पुस्तिका में 100 प्रश्नांश (प्रश्न) दिए गए हैं। प्रत्येक प्रश्नांश हिन्दी और अंग्रेजी दोनों में छपा है सिवाय उन प्रश्नों के जो अंग्रेजी भाषा बोधन के हैं और वे केवल अंग्रेजी में हैं। प्रत्येक प्रश्नांश में चार प्रत्युत्तर (उत्तर) दिए गए हैं। इनमें से एक प्रत्युत्तर को चुन लें, जिसे आप उत्तर-पत्रक पर अंकित करना चाहते हैं। यदि आपको ऐसा लगे कि एक से अधिक प्रत्युत्तर सही हैं, तो उस प्रत्युत्तर को अंकित करें जो आपको सर्वोत्तम लगे। प्रत्येक प्रश्नांश के लिए केवल एक ही प्रत्युत्तर चुनना है।
5. आपको अपने सभी प्रत्युत्तर अलग से दिए गए उत्तर-पत्रक पर ही अंकित करने हैं।
6. सभी प्रश्नांशों के अंक समान हैं।
7. इससे पहले कि आप परीक्षण पुस्तिका के विभिन्न प्रश्नांशों के प्रत्युत्तर उत्तर-पत्रक पर अंकित करना शुरू करें, आपको प्रवेश प्रमाण-पत्र के साथ प्रेषित अनुदेशों के अनुसार कुछ विवरण उत्तर-पत्रक में देने हैं।
8. आप अपने सभी प्रत्युत्तरों को उत्तर-पत्रक में भरने के बाद तथा परीक्षा के समापन पर केवल उत्तर-पत्रक अधीक्षक को सौंप दें। आपको अपने साथ परीक्षण पुस्तिका ले जाने की अनुमति है।
9. कच्चे काम के लिए पत्रक परीक्षण पुस्तिका के अंत में संलग्न हैं।
10. गलत उत्तरों के लिए दण्ड :
वस्तुनिष्ठ प्रश्न-पत्र में उम्मीदवार द्वारा दिए गए गलत उत्तरों के लिए दंड दिया जाएगा।
(i) प्रत्येक प्रश्न के लिए चार वैकल्पिक उत्तर हैं। उम्मीदवार द्वारा प्रत्येक उस प्रश्न के लिए, जिसके लिए दंड है, दिए गए एक गलत उत्तर के लिए प्रश्न हेतु नियत किए गए अंकों का एक-तिहाई दंड के रूप में काटा जाएगा।
(ii) यदि कोई उम्मीदवार एक से अधिक उत्तर देता है, तो इसे गलत उत्तर माना जाएगा, यद्यपि दिए गए उत्तरों में एक उत्तर सही होता है, फिर भी उस प्रश्न के लिए उपर्युक्तानुसार ही, उसी तरह का दंड दिया जाएगा, यदि उसके लिए दंड है।
(iii) यदि उम्मीदवार द्वारा कोई प्रश्न हल नहीं किया जाता है, अर्थात् उम्मीदवार द्वारा उत्तर नहीं दिया जाता है, तो उस प्रश्न के लिए कोई दंड नहीं दिया जाएगा।
11. हिन्दी तथा अंग्रेजी माध्यम में अन्तर होने की स्थिति में अंग्रेजी माध्यम को सही माना जाय।

जब तक आपको यह परीक्षण पुस्तिका खोलने को न कहा जाए तब तक न खोलें

HPAS Prelims 2012 (Aptitude Paper)

Answer Key

1	B	2	C	3	A	4	C	5	C	6	D	7	D	8	D	9	A	10	B
11	C	12	D	13	D	14	D	15	D	16	C	17	D	18	D	19	A	20	C
21	B	22	D	23	A	24	B	25	B	26	C	27	C	28	B	29	A	30	A
31	A	32	D	33	C	34	B	35	A	36	C	37	D	38	B	39	D	40	D
41	B	42	C	43	D	44	A	45	B	46	D	47	C	48	A	49	C	50	B
51	C	52	C	53	A	54	D	55	C	56	D	57	C	58	A	59	B	60	C
61	B	62	A	63	C	64	A	65	D	66	C	67	D	68	A	69	A	70	C
71	B	72	D	73	B	74	A	75	C	76	A	77	D	78	D	79	C	80	B
81	A	82	A	83	C	84	A	85	C	86	C	87	A	88	C	89	A	90	A
91	D	92	D	93	D	94	A	95	B	96	B	97	A	98	D	99	C	100	C

